

redactiesommen

E4



Redactiesommen zijn sommen verwerkt in een verhaal, vandaar dat ze ook wel verhaaltjessommen genoemd worden.

Met onderstaande kaarten kunnen deze sommen geoefend worden.

vanaf eind groep 3 t/m eind groep 8

Jelle koopt een paar dobbelstenen voor 80 cent. Hij geeft een euro. Hoeveel krijgt hij terug?



In een bus zitten 33 mensen. Er stappen nog 20 mensen in en er stappen 3 uit. Hoeveel mensen zitten er nu in de bus?




Mirthe gaat koekjes bakken. Om 15 koekjes te bakken heb je 3 schepjes suiker nodig. Mirthe wil 20 koekjes bakken. Hoeveel schepjes suiker heeft ze nodig?



De bakker maakt gevulde koeken. Hij maakt 6 zakken vol. In iedere zak gaan 5 gevulde koeken. Hoeveel gevulde koeken heeft de bakker gemaakt?



Sido had 44 knikkers toen hij naar school ging. Aan het eind van de dag had hij nog maar 36 knikkers. Hoeveel knikkers heeft Sido verloren?



Een kaartje voor een pretpark kost 9 euro. De vader van Marit besteld op internet 4 kaartjes voor de hele familie. Hoeveel euro moet hij betalen?



Maak de getallenreeks af:

100 - 95 - 90 - 85 -



Hans, Daan en Bas verdelen 15 snoepjes eerlijk. Hoeveel dropjes krijgt ieder?




Bij een partijtje voetbal staat het 13-12. Hoeveel doelpunten zijn er gemaakt?



Bij een ijskraam worden ijsjes van 2 euro verkocht. Meester Bas koopt er 35 voor alle kinderen. Hoeveel moet hij betalen?




Chantal heeft 5 taarten gebakken.
Uit iedere taart gaan 9 stukken.
Hoeveel stukken heeft ze dan?



Marije is over 5 dagen jarig. Het is
nu dinsdag. Op welke dag is Marije
jarig?



De vader van Sil en Nick gaat een terras maken. Sil denkt dat hij 32 tegels nodig heeft. Nick denkt dat er 45 tegels nodig zijn. Uiteindelijk gebruiken ze er 39. Wie heeft er het beste geschat?




Sil of Nick?




Een boer heeft een stuk land van 100 hectare. Hij verdeelt de grond over zijn 2 zoons. Hoe groot is het stuk dat iedere zoon krijgt?



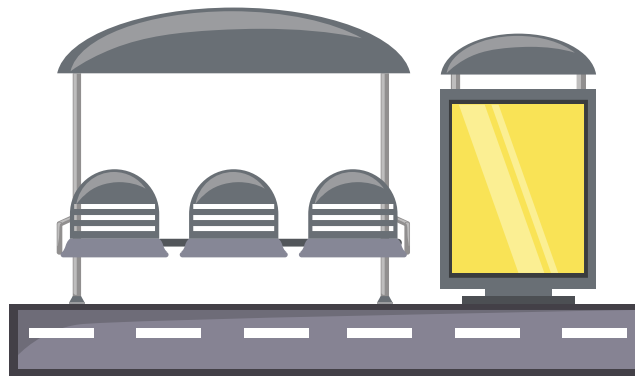
Een nachtje slapen in een hotel kost 9 euro. Jan wil graag 3 nachten blijven. Hoeveel moet hij betalen?



De vader van Sarah is 45 jaar oud.
Sarah zelf is 8 jaar.
Hoeveel jaar is Sarahs moeder
ouder dan Sarah?




Bart en Britt staan om half 7 bij de bushalte. De bus vertrekt om kwart voor 7. Hoeveel minuten moeten ze wachten?



Anna heeft 51 snoepjes. Ze wil aan haar vriendinnetjes ieder 10 snoepjes geven. Hoeveel vriendinnetjes kan ze 10 snoepjes geven?



Jelmer, Bas en Sander krijgen ieder
12 appels van de groenteboer.
Hoeveel appels krijgen ze samen?



Hans heeft 39 euro in zijn spaarpot.
Voor zijn verjaardag krijgt hij 15 en
9 euro. Hij doet alles in zijn
spaarpot. Hoeveel zit daar nu in?



Juf Magretha



Hey!

Super leuk dat je dit gratis bestandje hebt gedownload!

Volg ons op ons Instagram account om op de hoogte te blijven van de nieuwste ontwikkelingen:



@jufmagretha