

redactiesommen E5




Redactiesommen zijn sommen verwerkt in een verhaal, vandaar dat ze ook wel verhaaltjessommen genoemd worden.


Met onderstaande kaarten kunnen deze sommen geoefend worden.

vanaf eind groep 3 t/m eind groep 8

Lisa maakt een bloemkoolschotel voor 4 personen. Op het pakje staat dat ze voor 5 personen 1000 gram gehakt moet gebruiken. Hoeveel gehakt heeft ze nodig?



Thijs heeft een tuin met 462 aardbeiplantjes. Er gaan 97 dood. Hoeveel heeft hij er nog?



Ieder 30-ste bezoeker bij de dierenwinkel krijgt een dierenknuffel. Vandaag waren er al 221 mensen in de dierenwinkel geweest. Hoeveel van die mensen hebben een dierenknuffel gekregen?



Jelle wisselt 467 losse euro's voor briefjes van 10 euro. Hoeveel briefjes krijgt hij daarvoor?



Marije verdeelt 7 taarten in 6 stukken. Na het feestje zijn er nog 9 stukken over. Hoeveel stukken werden er opgegeten?



Eva en Nina lopen samen 360 meter naar hun opa. Later lopen ze ook weer 360 meter terug. Hoeveel hebben ze gelopen?



Chris gaat 4 weken op vakantie in Spanje. De helft van de tijd gaat hij naar een camping. Hoeveel dagen is hij op de camping?



Op een spaarkaart passen 25 zegels. Jesse heeft 208 zegels. Hoeveel spaarkaarten kan hij vol maken?



Pieter koopt 3 hamsters van 7 euro per stuk en 3 hamsters van 6 euro per stuk. Hoeveel moet hij betalen?



Klaas verzamelt postzegels in een album. In het album passen 300 postzegels. Hij heeft er al 188. Hoeveel kan hij er nog sparen voor het album vol is?



Een gezelschapsspel kost 90 euro, de uitbreiding erbij kost 35 euro. Als je ze gelijk samen koopt kost het 119 euro. Hoeveel korting heb je dan gekregen?



Milan, Chris, Helena en Merel gaan met z'n vieren kranten bezorgen. Ze moeten er 280 bezorgen. Hoeveel moet ieder er bezorgen?



Over precies 150 dagen is Tess weer jarig. Precies 2 weken later wil ze weten hoeveel dagen het nog duurt. Hoeveel dagen duurt het dan nog?




Mila leest een boek met 288 bladzijen. Ze heeft er al 120 gelezen. Hoeveel bladzijden moet ze nog lezen voor het boek uit is?



In een schuur kunnen 700 geiten. Er zijn nu 477. Hoeveel geiten passen er nog bij?




Van een touw van 2 meter haalt Noah er 18 centimeter af. Hoeveel centimeter blijft er over?



Sophie verdeelt 1 kilo macaroni in porties van 250 gram. Hoeveel van die porties kan ze maken?



Anna koopt 3 vissen van 8 euro per stuk en 3 vissen van 9 euro per stuk. Hoeveel moet hij betalen?



Meester Sander rijdt iedere dag heen en weer naar school. Dat kost hem iedere dag 9 liter benzine. Hoeveel dagen kan hij naar school rijden met een volle tank van 82 liter?



Sil koopt een bestuurbare boot van 675 euro. Hij krijgt 125 euro korting. Hoeveel moet hij betalen?



Juf Magretha



Hey!

Super leuk dat je dit gratis bestandje hebt gedownload!

Volg ons op ons Instagram account om op de hoogte te blijven van de nieuwste ontwikkelingen:



@jufmagretha