

redactiesommen

E7



Redactiesommen zijn sommen verwerkt in een verhaal, vandaar dat ze ook wel verhaaltjessommen genoemd worden.

Met onderstaande kaarten kunnen deze sommen geoefend worden.

vanaf eind groep 3 t/m eind groep 8

Nina verkoopt 36 taartjes voor 2,25 euro per stuk. Hoeveel brengt het in totaal op?



Wat is de uitkomst van deze som?
 $14000 - 9006 =$



1 liter verf kost 7,50 euro. Wat kost 1,5 liter van deze verf? Kies uit:
A:11,25 B:11,50 C:10,25 D:13,00



Bij 2 winkels zijn er aanbiedingen.
Winkel 1 heeft 500 gram spekjes voor 5,55 euro en bij winkel 2 kost 100 gram spekjes 1,02 euro. Welke winkel is het goedkoopst?

A: winkel 1 B: winkel 2



Twee kleine sportclubs worden samen een grote sportclub. Hier zitten nu 197 en 259 kinderen op. Hoeveel kinderen zijn dat straks samen?



Aan een volleybalwedstrijd doen 978 mensen uit Limburg en 435 mensen uit Utrecht mee. Hoeveel deelnemers zijn er in totaal?

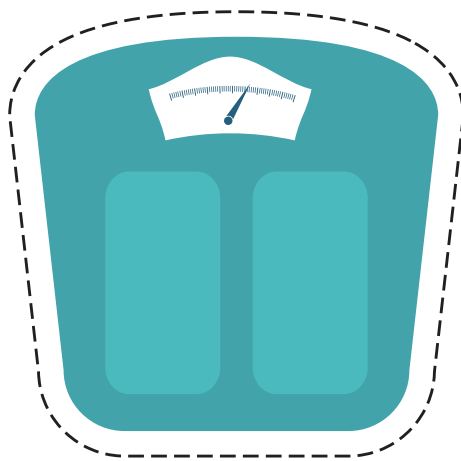


Indra is vandaag jarig en nu wordt
10 jaar.

Hoeveel dagen oud is Indra nu?
Rond af op duizendtallen.



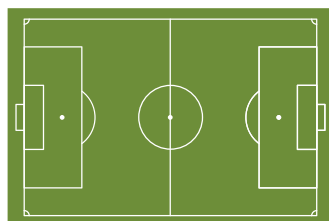
Op de weegschaal staat 1.356 kg.
Hoeveel gram is dit?



Jildou koopt 7 boeken van 6.04 per stuk. Wat moet Jildou ongeveer betalen? Rond af op hele euro's.



Op een sportavond loopt het team van de voetbalclub 8 rondjes om het sportveld. Het sportveld heeft een lengte van 150 meter en een breedte van 75 meter. Hoeveel meter lopen ze dan?



Wat is de uitkomst van deze som?
 $12000 - 5006$



Tom moet in de winkel 75,20 betalen. Tom betaald met een briefje van 100 euro. De kassière vraagt of hij er nog 0,20 bij heeft. Tom geeft dit erbij. Wat krijgt Tom nog terug?



Monique doet mee aan een wedstrijd en moet 10 rondes van 5 km lopen. Monique is op $\frac{3}{5}$ deel. Hoeveel kilometer moet ze nog?



Toen Tessa werd geboren woog zij 3630 gram. Nu is de verloskundige geweest en Tessa weegt nu 5820 gram. Hoeveel gram is Tessa zwaarder geworden?



Emma rijdt met haar auto 120 km/h.
Hoeveel kilometer rijdt zij dan in
een kwartier?



Bij een tentoonstellingen
verkochten ze bij de kassa 102
kaarten en vooraf via internet 240
kaarten. In totaal werden er 500
kaarten. Hoeveel kaarten zijn niet
verkocht?




Er werden dit jaar in de winkels
30000 beeldschermen verkocht.
Daarvan was 90% in de aanbieding.
Hoeveel beeldschermen waren als
aanbieding verkocht?



Met een volle zak kunstmest heb je
genoeg voor 80 m². Bart heeft al
een kwart gebruikt. Voor hoeveel
m² heeft hij nog genoeg?



Sarah verdeelt een vliegertouw in stukken van 0,80 meter. Het vliegertouw is 8 meter. Hoeveel stukken kan hij hieruit halen?



In een zakje borrelnootjes zit normaal altijd 200 gram. Nu krijg je 30% extra. Hoeveel gram zit er nu in?



Juf Magretha



Hey!

Super leuk dat je dit gratis bestandje hebt gedownload!

Volg ons op ons Instagram account om op de hoogte te blijven van de nieuwste ontwikkelingen:



@jufmagretha