

redactiesommen

E8




Redactiesommen zijn sommen verwerkt in een verhaal, vandaar dat ze ook wel verhaaltjessommen genoemd worden.

Met onderstaande kaarten kunnen deze sommen geoefend worden.

vanaf eind groep 3 t/m eind groep 8


Een regenton is voor de helft gevuld. Sido giet er 6 emmers van elk 15 liters bij. Daarna is de regenton voor $\frac{3}{4}$ deel gevuld. Hoeveel liter water kan er in de regenton?




Isa krijgt voor haar verjaardag twee zakjes met dominostenen. In ieder zakje zitten 45 stenen in verschillende kleuren. $\frac{2}{5}$ deel is rood, $\frac{1}{6}$ deel is blauw, $\frac{1}{3}$ deel is groen en de rest is geel. Van welke kleur zijn er het minst?




1250 ton zand is al op een schip geladen. Dit is 40%. Hoeveel ton zand wordt er in totaal op het schip geladen?




Evy, Anna en Hester hebben druiven geplukt. Evy plukte 3145 gram, Anna plukte 21791 gram en Hester plukte 1864 gram. Hoeveel kg plukten ze in totaal?



In Amsterdam kwamen deze maand 12578 mensen met een boot. Rond dit af op hondertallen. Hoeveel mensen kwamen er dan in Amsterdam met de boot?



Op de kassabon van Niek staat; worstjes: 0,50 euro, chips: 1,50 euro, vruchtenhagelslag: 0,98 euro, suiker: 1,09 euro. Hoeveel moest Niek in totaal betalen? Rond af op hele euro's.



Een roeiboort legt een afstand af in een rivier. Over een afstand van 120 km doet de roeiboort 2400 minuten. Wat is de gemiddelde snelheid in km per uur?



Er zijn 450 kinderen op school. Normaal zijn dat er meer want 10% van de kinderen dat op deze school zit is ziek thuis. Hoeveel kinderen zijn er op school als iedereen weer beter is?



In een fabriek vult een machine per minuut 25 flessen afwasmiddel. Er staan 3 van deze machines. Hoeveel flessen afwasmiddel worden er per dag gevuld als de machines 8 uur per dag draaien?



Juf Hannah heeft 45 doosjes met 19 pennen. Ze verdeelt de pennen over haar klas van 9 kinderen. Hoeveel pennen krijgt ieder kind?



Rosanne doet aan paardrijden. Per 12 weken betaalt ze voor de lessen 4608 euro. Hoeveel kost een uur paardrijden als Rosanne daaraan 2 uur per week besteedt?




Een school koopt muizen voor linkshandige en rechtshandige kinderen. 90% van de 1800 leerlingen zijn linkshandig. Hoeveel rechtshandige muizen moet de school kopen?




Dylan koopt een gamecomputer voor 1450 euro. Ze mag in 3 keer betalen. De eerste keer is dat $\frac{3}{5}$ deel, de tweede keer $\frac{1}{4}$ deel van de rest. Hoeveel moet Dylan de laatste keer betalen?



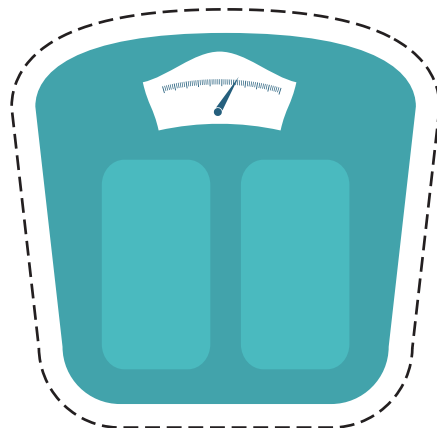
In de boomgaard van Henk staan 788 pruimenbomen. Aan iedere boom hangt 22 kg pruimen. Als het fruit geplukt is, blijkt 25% rot te zijn. In een kg gaan 12 vruchten. Hoeveel goede vruchten houd je over?




De koeien van boer Harm eten per dag 9547 decigram voer. Hoeveel decigram voer eten de koeien in de maand?



Vorig jaar woog Anco 42 kg. Nu weegt hij 27500 decigram zwaarder. Hoeveel gram weegt hij nu?




1 cm op de kaart is 170000 cm in het echt. Je meet 40 cm. Hoeveel km is de werkelijke afstand?



Een brandende kaars wordt in een kwartier 1 cm korter. Na 1,5 uur branden is er nog $\frac{2}{3}$ deel van de kaars over. Hoeveel centimeter lang was de kaars toen deze nog niet gebrand had?



Nynke en Jessica eten allebei een stuk pizza. Nynke eet $\frac{2}{5}$ deel op en Jessica eet $\frac{3}{8}$ deel op. Welk deel van de pizza is nog over?
A: $\frac{31}{40}$ B: $\frac{9}{40}$ C: $\frac{15}{20}$ D: $\frac{5}{20}$



Janna wast een auto in 68 minuten. Vera doet dat 4 keer zo snel. Fleur heeft 16 minuten langer nodig dan Vera. Hoeveel minuten doet Fleur erover om de auto te wassen?



Juf Magretha



Hey!

Super leuk dat je dit gratis bestandje hebt gedownload!

Volg ons op ons Instagram account om op de hoogte te blijven van de nieuwste ontwikkelingen:



@jufmagretha