

# redactiesommen m4



Redactiesommen zijn sommen verwerkt in een verhaal, vandaar dat ze ook wel verhaaltjessommen genoemd worden.

Met onderstaande kaarten kunnen deze sommen geoefend worden.

vanaf eind groep 3 t/m eind groep 8

Jelle, Sam en Bram krijgen samen  
30 euro van hun buurman. Ze  
moeten het eerlijk verdelen.  
Hoeveel krijgt ieder?



Sander heeft 17 aardbeienlolly's,  
zijn broertje Bas heeft er 15.  
Hoeveel lolly's heeft Sander er  
meer dan Bas?



Moeder heeft 12 pannenkoeken. Jan,  
Berend, Sjoerd, Geert en Rosa  
krijgen er allemaal 2.  
Hoeveel houdt moeder er over?



Om een taart te bakken heeft Jesse  
5 eieren nodig. Hij heeft er 15.  
Hoeveel taarten kan Jesse bakken?



Samen zijn Sido en zijn moeder 45 jaar oud. Sido is 10. Hoe oud is zijn moeder?




Meester Tom wil zijn klas van 25 kinderen verdelen in groepjes van 5. Hoeveel groepjes kan hij maken?



Welk getal ligt precies in het midden tussen de getallen 40 en 80?




Hans moet 95 euro betalen. Hij heeft al 35 betaald.  
Hoeveel briefjes van 10 moet hij nog geven?



Piet koopt postzegels voor 85 cent.  
Hij geeft een euro.  
Hoeveel krijgt hij terug?



In een doosje zitten 63 knopen.  
Moeder haalt er 7 knopen uit.  
Hoeveel blijven er over?




Iris koopt een paar boeken voor 43 euro. Zij betaalt met briefjes van 10 euro.

Hoeveel euro krijgt hij terug?



De flat waar de oma van Anna woont is 31 meter hoog. De kerk die ernaast staat is wel 2 keer zo hoog!

Hoe hoog is de kerk dan?



Op een parkeerplaats staan 13  
blauwe, 14 gele en 10 rode auto's.  
Hoeveel auto's zijn dat bij elkaar?



Welk getal hoort op de getallenlijn  
niet tussen 55 en 70?  
66, 69, 72, 56 of 59?






Familie de Vries woont op  
huisnummer 41. De buren links van  
hen wonen op nummer 43.  
De buren rechts van hen wonen op  
nummer ... ?



In een doosje zitten 84 druiven.  
Sam eet er 5 uit.  
Hoeveel druiven blijven er over?



Nina is 7 jaar. Haar oudere zus is  
17 jaar.  
Hoeveel jaar is haar zus ouder dan  
Nina?



Op de Aquamarijn school zitten 20  
kinderen in groep 5a en 23  
kinderen in 5b. Hoeveel kinderen  
zitten er in groep 5?



Jelmer koopt een doos K'nex van 43 euro. Hij betaald met briefjes van 5 en briefjes van 10 euro.  
Hoeveel euro krijgt hij terug?



Thieme kan een speer 16 meter ver gooien. Zijn vriend Lars kan maar de helft van de afstand gooien.  
Hoe ver gooit Lars?



# Juf Magretha



Hey!

Super leuk dat je dit gratis bestandje hebt gedownload!

Volg ons op ons Instagram account om op de hoogte te blijven van de nieuwste ontwikkelingen:



@jufmagretha