

redactiesommen M5



Redactiesommen zijn sommen verwerkt in een verhaal, vandaar dat ze ook wel verhaaltjessommen genoemd worden.

Met onderstaande kaarten kunnen deze sommen geoefend worden.

vanaf eind groep 3 t/m eind groep 8

Luca weegt 35 kilo. Bram weegt 27 kilo.

Hoeveel kilo wegen ze samen?



Op een voetbalclub zitten 75 jongens en 150 meisjes. Hoeveel kinderen zitten er op deze voetbalclub?



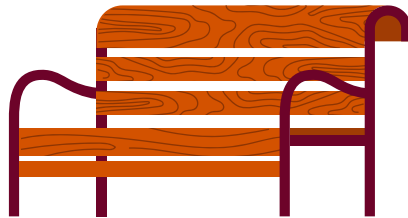
Als de sportwinkel nog 3 voetbal
verkoopt, hebben ze deze week 400
voetballen verkocht. Hoeveel
voetballen zijn er tot nu toe
verkocht?




Jelle koopt 4 flesjes frisdrink van 1
euro en nog 5 snoepjes van 20 cent.
Hoeveel euro moet hij betalen?



Timmerman Tim maakt tuinbankjes.
Voor ieder bankje heeft hij 14
schroeven nodig. Voor buurman Bas
moet hij 4 tuinbankjes maken.
Hoeveel schroeven heeft Tim
hiervoor nodig?



Een flat heeft 6 verdiepingen. Op
iedere verdieping zitten 8
appartementen. Hoeveel
appartementen zijn er samen?



Chris en Marije moeten 4 stapels van 100 en 5 stapels van 30 kranten bezorgen. Hoeveel kranten moeten ze bezorgen?



Aan het begin van het jaar heeft een sportclub 83 leden. Dat jaar komen er 27 leden bij en gaan er 13 leden af. Hoeveel leden zijn er aan het einde van het jaar?



Bram spaart voor een nieuwe fiets.
Van zijn opa krijgt hij 25 euro. Zijn
andere opa geeft 35 euro en van
zijn vader krijgt hij 40 euro.
Hoeveel euro heeft hij al gespaard?




Voor het werken in groepjes
verdeelt de meester de klas in
groepjes van 4. In de klas zitten 28
kinderen. Hoeveel groepjes maakt
de meester?



Bij een sportdag doen 59 kinderen uit groep 5 en groep 6 mee. Uit groep 5 doen er 23 kinderen mee. Hoeveel kinderen uit groep 6 doen mee?



2 kilo appels kosten 14 euor. Hoeveel moet je betalen voor 3 kilo?



Hans koopt 30 frikandellen. Er zitten 5 frikandellen in een pak. Hoeveel pakken kocht Hans?



Iris moet om half 6 opstaan. Wat staat er dan op zijn digitale horloge?


A: 6.30 B: 7.30 C: 5.30 D: 5.45



Een vliegtuig vliegt op een hoogte van 886 meter. Hij daalt 84 meter. Op hoeveel meter hoogte vliegt hij nu?




Max heeft 22 zakjes met 10 snoepjes om te verkopen. Hoeveel snoepjes heeft Max?



De familie van Mark gaan naar het circus. De moeder van Mark koopt 6 kaartjes. Deze kost 8 euro per stuk. Hoeveel moet de moeder van Mark betalen?



Anna spaart voor een serie films. Deze kost 90 euro. Voor haar verjaardag kreeg ze van haar opa 15 euro. Met klusjes doen voor haar moeder heeft ze ook nog 36 euro gespaard. Hoeveel euro moet Anna nog sparen?



Sander heeft 600 postzegels. Hij geeft er 73 weg aan zijn broertje. Hoeveel houdt hij over?



De kippen van boer Klaas hebben 220 eieren gelegd. De boer verpakt ze in doosjes van 10. Hoeveel doosjes kan hij vullen?



Juf Magretha



Hey!

Super leuk dat je dit gratis bestandje hebt gedownload!

Volg ons op ons Instagram account om op de hoogte te blijven van de nieuwste ontwikkelingen:



@jufmagretha