

# Redactiesommen

E3 t/m E8

Bij rekenen in groep 3 krijgen leerlingen voor het eerst te maken met redactiesommen, oftewel verhaaltjessommen. Aangezien de Cito-toetsen voor een groot deel bestaan uit deze sommen is het verstandig om ze regelmatig te oefenen. Leerlingen vinden ze vaak lastig omdat de soms is verstopt in een verhaaltje, een 'kale som' is vaak makkelijker.

Met deze werkbladen kun je de leerlingen laten oefenen met het maken van redactiesommen.

Om de leerlingen op weg te helpen, zien zij in de eerste 2 verhaaltjes welke cijfers zij moeten gebruiken voor het maken van de som.

Op de website vind je ook redactiesommen in de vorm van oefenkaartjes, waarbij de leerlingen bijvoorbeeld samen kunnen oefenen.

Succes en veel plezier!

- Juf Magretha

## Redactiesommen M4/E4

Het is **half 8**. De vader van Luca zegt dat Luca om **8 uur** naar bed moet. Over hoeveel minuten is dat?

..... minuten

**Janneke, Niels, Mark** en **Aron** moeten **80** kranten rondbrengen. Ze verdelen het eerlijk, hoeveel moet ieder er bezorgen?

..... kranten

De vader van Janna rijdt in de auto. De teller staat precies tussen de 30 en de 40 kilometer per uur. Hoe hard rijdt de vader van Janna?

..... km per uur

In de klas van Geertje zitten 15 kinderen. Ze zitten in 5 even grote groepjes. Hoeveel kinderen zitten er in elk groepje?

..... kinderen



## Redactiesommen M4/E4

Welk getal hoort op de getallenlijn niet tussen 65 en 75? 69, 73, 66, 77 of 71?

.....

Hans en Sjoukje staan om **half 8** bij het treinstation.

De trein vertrekt om **kwart voor 8**.  
Hoeveel minuten moeten ze wachten?




..... minuten?

Jorrit doet er een half uur over om zijn kamer op te ruimen. Hij is om 12 uur klaar.  
Hoe laat is hij begonnen?

.....

Bij een frietkraam worden de bakjes friet verkocht voor **2** euro. Meester Jan koopt **35** bakjes friet voor alle kinderen. Hoeveel moet hij betalen?



..... euro


## Redactiesommen M4/E4

Jens koopt een horloge en een computerspel. Het horloge kost **18** euro. Samen moet Jens **41** euro betalen. Hoeveel kost het computerspel?

..... euro

Voor een traktatie geeft Ilse alle kinderen uit haar klas een zakje snoepjes. Er zitten **26** kinderen in haar klas. De zakjes snoep zitten in doosjes van **5**. Hoeveel doosjes moet Ilse kopen?

..... doosjes




Luca, Daan en Sarah krijgen samen 30 euro van Oma. Ze moeten het eerlijk verdelen. Hoeveel krijgt ieder?

..... euro

In een vakantiehuis zijn 6 bedden. Die zijn eerlijk verdeeld over 3 slaapkamers. Hoeveel bedden staan in 1 kamer?

..... bedden



# Juf Magretha



Hey!

Super leuk dat je dit gratis bestandje hebt  
gedownload!

Volg ons op ons Instagram account om op de  
hoogte te blijven van de nieuwste ontwikkelingen:



@jufmagretha