

# Redactiesommen

E3 t/m E8

Bij rekenen in groep 3 krijgen leerlingen voor het eerst te maken met redactiesommen, oftewel verhaaltjessommen. Aangezien de Cito-toetsen voor een groot deel bestaan uit deze sommen is het verstandig om ze regelmatig te oefenen. Leerlingen vinden ze vaak lastig omdat de soms is verstopt in een verhaaltje, een 'kale som' is vaak makkelijker.

Met deze werkbladen kun je de leerlingen laten oefenen met het maken van redactiesommen.

Om de leerlingen op weg te helpen, zien zij in de eerste 2 verhaaltjes welke cijfers zij moeten gebruiken voor het maken van de som.

Op de website vind je ook redactiesommen in de vorm van oefenkaartjes, waarbij de leerlingen bijvoorbeeld samen kunnen oefenen.

Succes en veel plezier!

- Juf Magretha

## Redactiesommen M5

Jesse koopt met zijn opa een shirt van **65** euro en een pet van **23** euro. Zijn opa betaalt met een briefje van **100** euro. Hoeveel krijgen ze terug?

..... euro

Timmerman Johan maakt tuinbankjes. Voor ieder bankje heeft hij **13** schroeven nodig. Voor een bestelling moet hij **4** bankjes maken. Hoeveel schroeven heeft hij hiervoor nodig?

..... schroeven




Eline komt half 6 uit bed. Om kwart voor 7 moet ze klaar zijn om naar school te gaan. Hoeveel minuten heeft ze om zich klaar te maken?

..... minuten

2 kilo watermeloen kost 18 euro. Hoeveel moet je betalen voor 3 kilo?

..... euro




## Redactiesommen M5

Welk nummer hoort op de plaats van het vraagteken? 497 - 498 - ..... - ? - ..... - 502

.....

De kippen van boer Hans hebben **330** eieren gelegd. De boer verpakt ze in doosjes van **10**. Hoeveel doosjes kan hij vullen?



..... doosjes

Hidde trakteert en heeft **48** snoepjes. Deze wil hij eerlijk verdelen over **6** kinderen. Hoeveel snoepjes krijgt ieder kind?

..... snoepjes

2 kilo bonen kost 18 euro. Hoeveel moet je betalen voor 3 kilo?



..... euro


## Redactiesommen M5

Bas verkoopt zijn skelter voor **150** euro. Hij koopt een nieuw skelter voor **400** euro. Hoeveel geld heeft hij bij moeten betalen voor de nieuwe skelter?

..... euro

**2** kilo meloen kost **16** euro. Hoeveel moet je betalen voor **3** kilo?

..... euro



Nynke koopt een paar nieuwe schoenen van 65 euro en een t shirt van 23 euro. Haar moeder betaalt met een briefje van 100 euro. Hoeveel krijgen ze terug?

..... euro

Tygo moet 2 uur en een half uur wachten op de uitslag van zijn examen. Hoeveel minuten moet hij wachten?

..... minuten



# Juf Magretha



Hey!

Super leuk dat je dit gratis bestandje hebt  
gedownload!

Volg ons op ons Instagram account om op de  
hoogte te blijven van de nieuwste ontwikkelingen:



@jufmagretha