

Redactiesommen

E3 t/m E8

Bij rekenen in groep 3 krijgen leerlingen voor het eerst te maken met redactiesommen, oftewel verhaaltjessommen. Aangezien de Cito-toetsen voor een groot deel bestaan uit deze sommen is het verstandig om ze regelmatig te oefenen. Leerlingen vinden ze vaak lastig omdat de soms is verstopt in een verhaaltje, een 'kale som' is vaak makkelijker.

Met deze werkbladen kun je de leerlingen laten oefenen met het maken van redactiesommen.

Om de leerlingen op weg te helpen, zien zij in de eerste 2 verhaaltjes welke cijfers zij moeten gebruiken voor het maken van de som.

Op de website vind je ook redactiesommen in de vorm van oefenkaartjes, waarbij de leerlingen bijvoorbeeld samen kunnen oefenen.

Succes en veel plezier!

- Juf Magretha

Redactiesommen E3

Hans en **Pieter** verdelen **16** snoepjes eerlijk.
Hoeveel heeft ieder er?

..... snoepjes

Tim heeft **10** euro. Hij koopt spelletjes en maakt al zijn geld daaraan op. De spelletjes kosten **2** euro per stuk. Hoeveel heeft hij er gekocht?


..... spelletjes

10 kinderen uit groep 5 gaan naar het pretpark. De juf gaat ook mee en nog 5 ouders. Met hoeveel zijn ze?

.....

Marije koopt 3 kaartjes voor de bioscoop. Eén kaartje kost 3 euro. Hoeveel euro moet Marije in totaal betalen?

..... euro



Redactiesommen E3

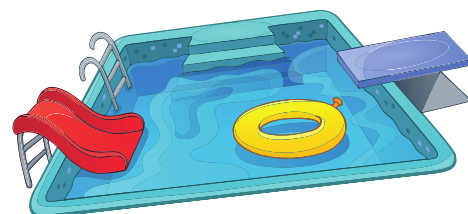
Eén broodje ham kost **1** euro.

Joachim koopt er **3**.

Hoeveel euro moet Joachim betalen?

..... euro

Saskia fietst met haar zusje **10** kilometer naar het zwembad. Ze fietsen een kortere weg van **9** kilometer terug. Hoeveel kilometer hebben ze gefietst?



..... kilometer

Jelmer koopt twee boeken van 3 euro en één tijdschrift van 3 euro.


Hoeveel euro kost dat samen?

..... euro

Berber heeft 7 bloemetjes geplukt.

Eva heeft 16 bloemetjes geplukt.

Hoeveel heeft Eva meer dan Berber?



.....


Redactiesommen E3

Janna heeft bij de apotheek nummer **30**.
Welk nummer was voor haar aan de beurt?

.....

In één kistje zitten **10** appels.
Hoeveel kistjes heb je nodig voor **30** appels?

..... kistjes




Elske koopt een plant. Deze kostte eerst 19
euro, maar kost nu 12 euro.
Hoeveel euro goedkoper is dat?

..... euro

Frans heeft 2 broodjes.
Hij snijdt deze broodjes in 2 stukken.
Hoeveel stukken zijn er dan?

..... stukken



Juf Magretha



Hey!

Super leuk dat je dit gratis bestandje hebt
gedownload!

Volg ons op ons Instagram account om op de
hoogte te blijven van de nieuwste ontwikkelingen:



@jufmagretha